



1966M0101

2024

# AVALIAÇÃO CONTÍNUA DA APRENDIZAGEM

## CICLO III

MATEMÁTICA

1º ano do Ensino Fundamental

CADERNO  
M0101

Nome do(a) estudante

Data de Nascimento  
do(a) estudante

<input type="text"/>	<input type="text"/>	<input type="text"/>	<input type="text"/>	<input type="text"/>	<input type="text"/>	<input type="text"/>	<input type="text"/>
----------------------	----------------------	----------------------	----------------------	----------------------	----------------------	----------------------	----------------------

	A	B	C	D
01	<input type="radio"/>	<input type="radio"/>	<input type="radio"/>	<input type="radio"/>
02	<input type="radio"/>	<input type="radio"/>	<input type="radio"/>	<input type="radio"/>
03	<input type="radio"/>	<input type="radio"/>	<input type="radio"/>	<input type="radio"/>
04	<input type="radio"/>	<input type="radio"/>	<input type="radio"/>	<input type="radio"/>
05	<input type="radio"/>	<input type="radio"/>	<input type="radio"/>	<input type="radio"/>
06	<input type="radio"/>	<input type="radio"/>	<input type="radio"/>	<input type="radio"/>

	A	B	C	D
07	<input type="radio"/>	<input type="radio"/>	<input type="radio"/>	<input type="radio"/>
08	<input type="radio"/>	<input type="radio"/>	<input type="radio"/>	<input type="radio"/>
09	<input type="radio"/>	<input type="radio"/>	<input type="radio"/>	<input type="radio"/>
10	<input type="radio"/>	<input type="radio"/>	<input type="radio"/>	<input type="radio"/>
11	<input type="radio"/>	<input type="radio"/>	<input type="radio"/>	<input type="radio"/>
12	<input type="radio"/>	<input type="radio"/>	<input type="radio"/>	<input type="radio"/>

	A	B	C	D
13	<input type="radio"/>	<input type="radio"/>	<input type="radio"/>	<input type="radio"/>
14	<input type="radio"/>	<input type="radio"/>	<input type="radio"/>	<input type="radio"/>
15	<input type="radio"/>	<input type="radio"/>	<input type="radio"/>	<input type="radio"/>
16	<input type="radio"/>	<input type="radio"/>	<input type="radio"/>	<input type="radio"/>
17	<input type="radio"/>	<input type="radio"/>	<input type="radio"/>	<input type="radio"/>
18	<input type="radio"/>	<input type="radio"/>	<input type="radio"/>	<input type="radio"/>

	A	B	C	D
19	<input type="radio"/>	<input type="radio"/>	<input type="radio"/>	<input type="radio"/>
20	<input type="radio"/>	<input type="radio"/>	<input type="radio"/>	<input type="radio"/>
21	<input type="radio"/>	<input type="radio"/>	<input type="radio"/>	<input type="radio"/>
22	<input type="radio"/>	<input type="radio"/>	<input type="radio"/>	<input type="radio"/>

4454197329



## EXEMPLO

Vamos fazer juntos um exemplo de uma atividade.

OBSERVE ABAIXO A CONTA QUE A PROFESSORA ANA ESCREVEU NO QUADRO.

$$15 + 4$$

QUAL É O RESULTADO DESSA CONTA?

11

18

19

55



**OUÇA E OBSERVE O TEXTO ABAIXO PARA RESPONDER ÀS QUATRO QUESTÕES A SEGUIR.**

OBSERVE ABAIXO MARCELO PREPARANDO UMA SALADA PARA UM ALMOÇO COM SEUS AMIGOS.




(M00076338\_CEN)

## Questão 01

M00076338

OBSERVE ABAIXO OS OBJETOS QUE MARCELO ESTÁ USANDO PARA PREPARAR A SALADA.



QUAL OBJETO ESTÁ À ESQUERDA DE MARCELO?



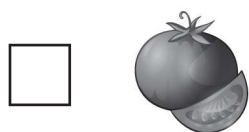
## Questão 02

M00076339

OBSERVE ABAIXO A QUANTIDADE DE ALGUNS INGREDIENTES QUE MARCELO USOU PARA FAZER A SALADA.



QUAL INGREDIENTE FOI USADO EM MAIOR QUANTIDADE PARA FAZER A SALADA?



**Questão 03**

M00076340

OBSERVE ABAIXO A IMAGEM DA BANDEJA QUE MARCELO USARÁ PARA SERVIR SEUS AMIGOS.



A FORMA DESSA BANDEJA LEMBRA QUAL FORMA GEOMÉTRICA?

- TRIÂNGULO.
- RETÂNGULO.
- QUADRADO.
- CÍRCULO.


**Questão 04**

M00076342

OBSERVE ABAIXO A SEQUÊNCIA DE INGREDIENTES QUE MARCELO FOI COLOCANDO NA SALADA. ESSA SEQUÊNCIA SEGUE UM PADRÃO.




DE ACORDO COM A SEQUÊNCIA, QUAL É O INGREDIENTE QUE COMPLETA O ESPAÇO VAZIO?



**OUÇA E OBSERVE O TEXTO ABAIXO PARA RESPONDER ÀS QUATRO QUESTÕES A SEGUIR.**

**LARA VAI VIAJAR A TRABALHO DURANTE ALGUNS MESES. OBSERVE ABAIXO ELA ARRUMANDO AS MALAS.**



(M0076343\_CEN)

**Questão 05**

M00076345

LARA COMPROU CHINELOS NOVOS PARA VIAJAR. OBSERVE ABAIXO A QUANTIA QUE LARA PAGOU PELOS CHINELOS.



QUAL FOI A QUANTIA QUE LARA PAGOU PELOS CHINELOS?

- 2 REAIS.
- 5 REAIS.
- 20 REAIS.
- 50 REAIS.

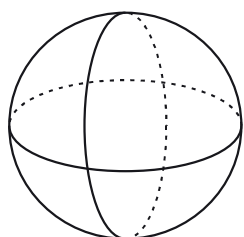
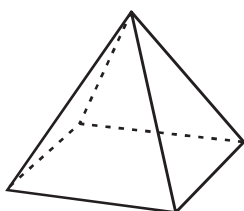
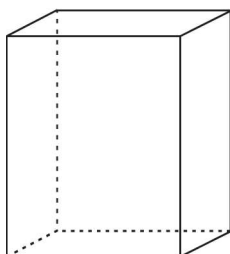
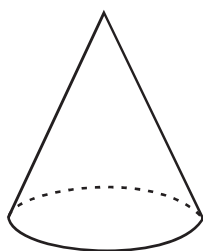
**Questão 06**

M00076343

OBSERVE ABAIXO A IMAGEM DA BOLSA QUE LARA LEVARÁ NA MÃO.



A FORMA DESSA BOLSA LEMBRA QUAL FIGURA GEOMÉTRICA?



**Questão 07**

M00076347

OBSERVE, NA TABELA ABAIXO, A QUANTIDADE DE PEÇAS DE ROUPAS QUE LARA COLOCOU EM CADA MALA.

**MALAS DE LARA**

MALAS	QUANTIDADE DE PEÇAS DE ROUPA
	19
	23
	17
	21

DE ACORDO COM ESSA TABELA, QUAL É A MALA COM A MAIOR QUANTIDADE DE PEÇAS DE ROUPAS?



## Questão 08

M00076346

LARA PRECISA GUARDAR OS SEUS 22 VESTIDOS NAS MALAS. OBSERVE OS VESTIDOS DE LARA NA IMAGEM ABAIXO.



ELA GUARDOU 7 DESSES VESTIDOS EM UMA MALA.

QUANTOS VESTIDOS SOBRARAM PARA LARA GUARDAR?

14.

15.

22.

51.

**OUÇA E OBSERVE O TEXTO ABAIXO PARA RESPONDER ÀS QUATRO QUESTÕES A SEGUIR.**

OBSERVE ABAIXO A IMAGEM DE UM PARQUE ECOLÓGICO ONDE AS PESSOAS FAZEM DIFERENTES ATIVIDADES AO AR LIVRE.




(M00076348\_CEN)

### Questão 09

M00076351

OBSERVE ABAIXO A SEQUÊNCIA DE EXERCÍCIOS QUE DIANA FAZ NESSE PARQUE. ESSA SEQUÊNCIA SEGUE UM PADRÃO.



DE ACORDO COM A SEQUÊNCIA DE EXERCÍCIOS, QUAL É A IMAGEM QUE COMPLETA O ESPAÇO VAZIO?









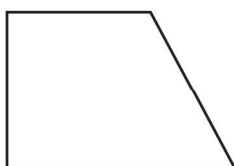

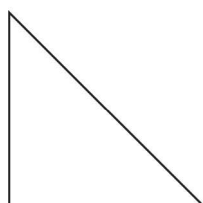
**Questão 10**

M00076349

OBSERVE ABAIXO DANIEL ANDANDO DE BICICLETA PELO PARQUE.



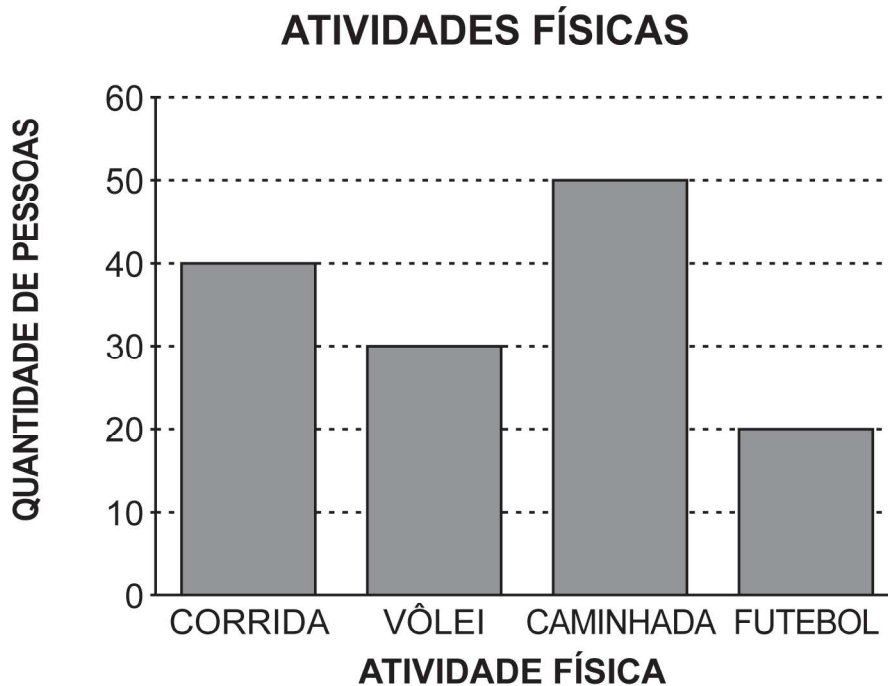
A FORMA DAS RODAS DESSA BICICLETA LEMBRA QUAL FIGURA GEOMÉTRICA?



## Questão 11

M00076350

O ADMINISTRADOR DO PARQUE REALIZOU UMA PESQUISA PARA SABER QUAIS SÃO AS ATIVIDADES FÍSICAS MAIS PRATICADAS PELAS PESSOAS NESSE PARQUE. OBSERVE ABAIXO O GRÁFICO QUE ELE FEZ.



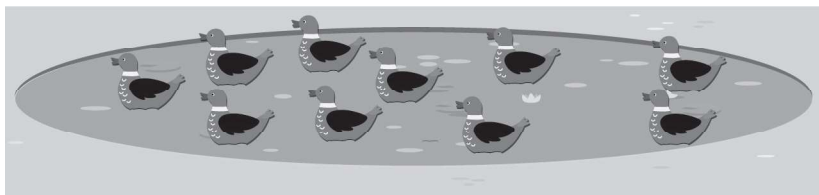
DE ACORDO COM ESSE GRÁFICO, QUAL ATIVIDADE FÍSICA É A MAIS PRATICADA?

- VÔLEI.
- FUTEBOL.
- CORRIDA.
- CAMINHADA.

**Questão 12**

M00076348

OBSERVE, NA IMAGEM ABAIXO, OS 10 PATOS QUE VIVEM NA LAGOA DESSE PARQUE.



A VETERINÁRIA QUE CUIDA DOS ANIMAIS DO PARQUE VAI RETIRAR 3 PATOS DESSA LAGOA.

QUANTOS PATOS RESTARÃO NESSA LAGOA?

4.

7.


10.

13.

## Questão 13

M00075001

OBSERVE ABAIXO A QUANTIDADE DE ANIMAIS NO SÍTIO DE CARLOS.




32



14





27



18

QUAL É O ANIMAL EM MAIOR QUANTIDADE NESSE SÍTIO?



## Questão 14

M00075020

OBSERVE, NA IMAGEM ABAIXO, O QUARTO DE FRANCISCA.




QUAL OBJETO ESTÁ EMBAIXO DA MESA?



**Questão 15**

M00075007

OBSERVE ABAIXO O JARDIM DE ANA. ELA TEM 12 FLORES.



ANA VAI PLANTAR MAIS 13 FLORES NESSE JARDIM.

COM QUANTAS FLORES O JARDIM DE ANA FICARÁ NO TOTAL?

12.

24.

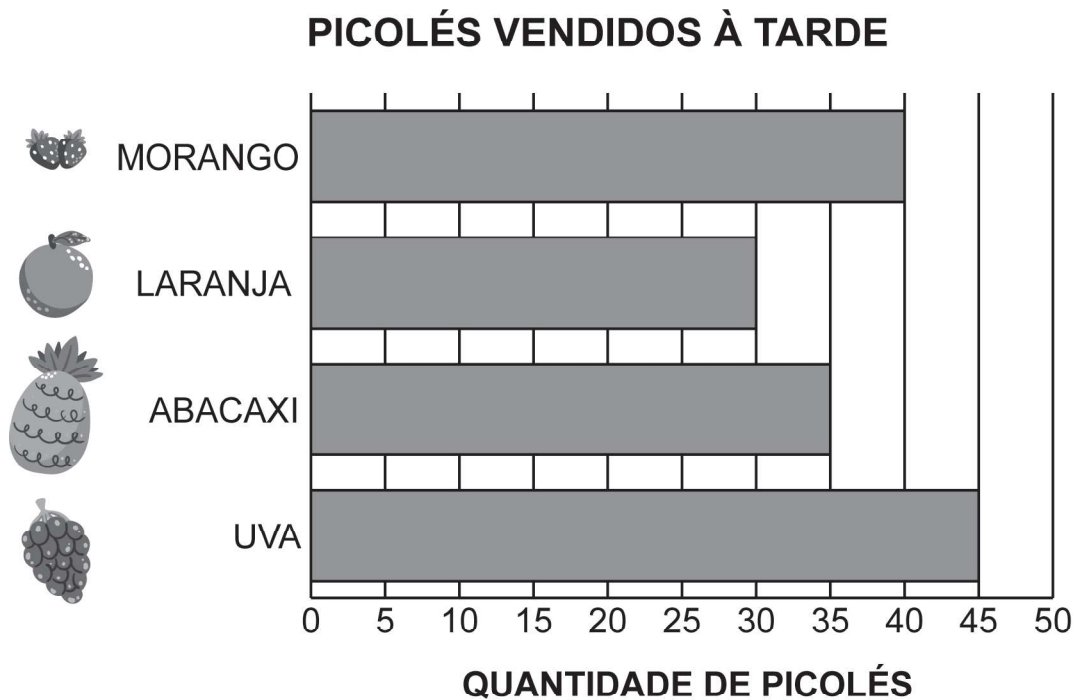
25.

52.

## Questão 16

M00075035

UMA SORVETERIA FEZ UMA PESQUISA SOBRE OS SABORES DE PICOLÉS VENDIDOS EM UMA TARDE. OBSERVE O RESULTADO NO GRÁFICO ABAIXO.



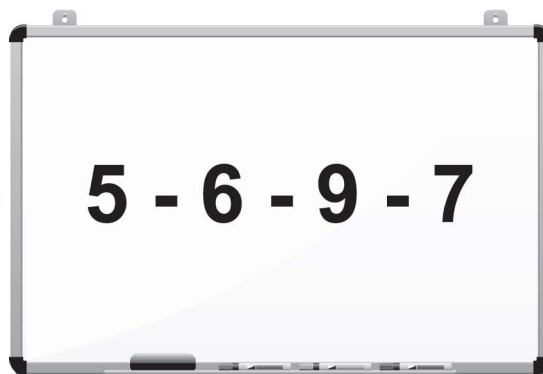
DE ACORDO COM ESSE GRÁFICO, QUANTOS PICOLÉS DE ABACAXI FORAM VENDIDOS?

 30. 35. 40. 45.

**Questão 17**

M00075002

OBSERVE ABAIXO OS NÚMEROS QUE UMA PROFESSORA ESCREVEU NO QUADRO.



QUAL DESSES NÚMEROS É O MAIOR?

5.

6.

9.

7.

**Questão 18**

M00075027

OBSERVE ABAIXO A CASA DESENHADA POR MÁRCIA.



A FORMA DO TELHADO, EM CINZA, LEMBRA QUAL FIGURA GEOMÉTRICA?

- CÍRCULO.
- QUADRADO.
- RETÂNGULO.
- TRIÂNGULO.

**Questão 19**

M00075030

ANTÔNIO COMPROU UM ADESIVO DO SEU TIME QUE CUSTA 50 CENTAVOS.  
QUAL FOI A QUANTIA QUE ANTÔNIO GASTOU PARA COMPRAR ESSE  
ADESIVO?



## Questão 20

M00075018

OBSERVE, NA IMAGEM ABAIXO, PEDRO BRINCANDO EM UM PARQUE COM SEUS AMIGOS.



QUEM ESTÁ ATRÁS DE PEDRO?

CARLA.

JONAS.


LAURA.

VITOR.

## Questão 21

M00075011

LUCAS GANHOU 16 BOMBONS.



ELE DEU 11 DESSES BOMBONS PARA SUA IRMÃ.

COM QUANTOS BOMBONS LUCAS FICOU?

5.

9.

16.

27.

**Questão 22**

M00075021

OBSERVE ABAIXO O DESENHO DE UM CHAPÉU.



A FORMA DESSE CHAPÉU LEMBRA QUAL FIGURA GEOMÉTRICA?

