

2024



1891M0201

AVALIAÇÃO CONTÍNUA DA APRENDIZAGEM CICLO II

MATEMÁTICA
2º ano do Ensino Fundamental

CADERNO
M0201

Nome do(a) estudante

Data de Nascimento
do(a) estudante

--	--	--	--	--	--	--	--

01	A	B	C	D
02	A	B	C	D
03	A	B	C	D
04	A	B	C	D
05	A	B	C	D
06	A	B	C	D

07	A	B	C	D
08	A	B	C	D
09	A	B	C	D
10	A	B	C	D
11	A	B	C	D
12	A	B	C	D

13	A	B	C	D
14	A	B	C	D
15	A	B	C	D
16	A	B	C	D
17	A	B	C	D
18	A	B	C	D

19	A	B	C	D
20	A	B	C	D
21	A	B	C	D
22	A	B	C	D

4454197329

EXEMPLO

Vamos fazer juntos um exemplo de uma atividade.

OBSERVE ABAIXO A CONTA QUE A PROFESSORA ANA ESCREVEU NO QUADRO.

$$15 + 4$$

QUAL É O RESULTADO DESSA CONTA?

11

18

19

55

OUÇA E OBSERVE O TEXTO ABAIXO PARA RESPONDER ÀS QUATRO QUESTÕES A SEGUIR.

OBSERVE, NA FIGURA ABAIXO, AS MERCADORIAS À VENDA NA MERCEARIA DE HÉLIO E O FUNCIONÁRIO DAVI CARREGANDO UMA CAIXA COM CARTELAS DE OVOS.



(M00061196_CEN)

Questão 01

M00061198

PARA ORGANIZAR A MERCEARIA, HÉLIO COLOCOU 25 CAIXAS DE LEITE INTEGRAL E 13 CAIXAS DE LEITE DESNATADO EM UMA PRATELEIRA QUE ESTAVA VAZIA.

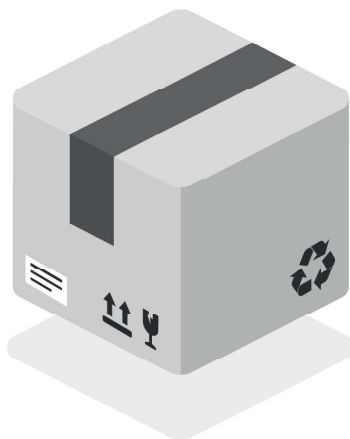
QUANTAS CAIXAS DE LEITE FORAM COLOCADAS, AO TODO, NESSA PRATELEIRA?

 83. 38. 28. 12.

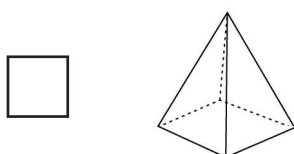
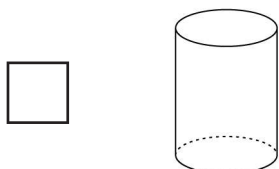
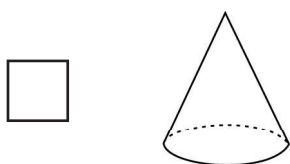
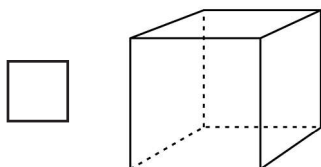
Questão 02

M00061197

OBSERVE ABAIXO A CAIXA COM CARTELAS DE OVOS QUE DAVI GUARDOU NO ESTOQUE DA MERCEARIA.



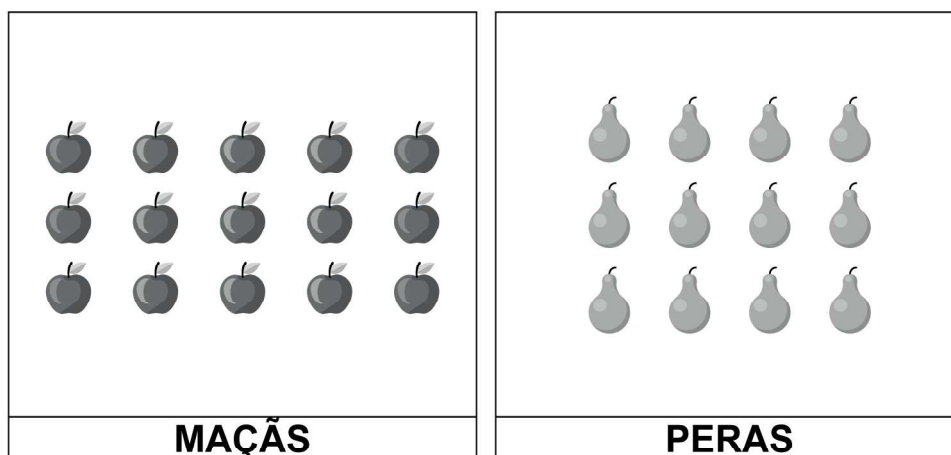
A FORMA DESSA CAIXA LEMBRA QUAL FIGURA GEOMÉTRICA?



Questão 03

M00061196

OBSERVE ABAIXO AS QUANTIDADES DE MAÇÃS E DE PERAS VENDIDAS PARA UM CLIENTE DA MERCEARIA DE HÉLIO.



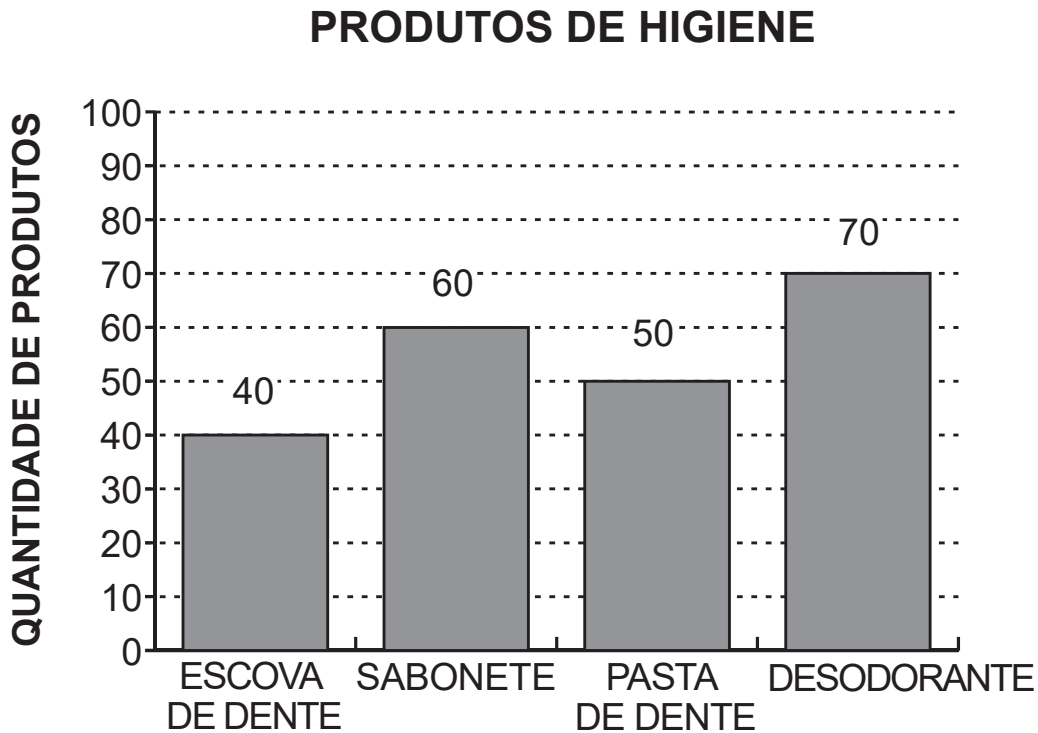
QUANTAS MAÇÃS FORAM VENDIDAS A MAIS DO QUE A QUANTIDADE DE PERAS PARA ESSE CLIENTE?

 27. 15. 3. 2.

Questão 04

M00061200

O GRÁFICO ABAIXO APRESENTA A QUANTIDADE DE PRODUTOS DE HIGIENE QUE HÉLIO RECEBEU E GUARDOU NO ESTOQUE DE SUA MERCEARIA.




PRODUTOS DE HIGIENE

DE ACORDO COM ESSE GRÁFICO, QUAL PRODUTO DE HIGIENE HÉLIO RECEBEU EM MENOR QUANTIDADE?

- DESODORANTE.
- ESCOVA DE DENTE.
- PASTA DE DENTE.
- SABONETE.

OUÇA E OBSERVE O TEXTO ABAIXO PARA RESPONDER ÀS QUATRO QUESTÕES A SEGUIR.

CINCO AMIGOS COLECIONAM FIGURINHAS. OBSERVE ABAIXO ESSES AMIGOS TROCANDO SUAS FIGURINHAS QUE SÃO REPETIDAS.



(M00061571_CEN)

Questão 05

M00061572

UMA DAS CRIANÇAS SE CHAMA VERA. AS FIGURINHAS REPETIDAS QUE VERA POSSUI ESTÃO REPRESENTADAS ABAIXO.



QUANTAS FIGURINHAS REPETIDAS VERA POSSUI NO TOTAL?

42.

41.

7.

6.

Questão 06

M00061573

HUGO POSSUI 284 FIGURINHAS REPETIDAS. ELE ESCOLHEU 13 DESSAS FIGURINHAS PARA PRESENTEAR LARA.

COM QUANTAS FIGURINHAS REPETIDAS HUGO FICOU DEPOIS DE PRESENTEAR LARA?

 154. 271. 284. 297.

Questão 07

M00061574

OBSERVE ABAIXO A QUANTIDADE DE FIGURINHAS QUE CADA UM DOS AMIGOS POSSUI EM SEU ÁLBUM.

267 HUGO	192 LARA	364 MIGUEL	495 NELSON	281 VERA
-------------	-------------	---------------	---------------	-------------

QUAL É A ORDEM CRESCENTE DESSAS QUANTIDADES?

- 192 – 267 – 281 – 364 – 495.
- 281 – 192 – 364 – 495 – 267.
- 364 – 267 – 281 – 192 – 495.
- 495 – 364 – 281 – 267 – 192.

Questão 08

M00061575

NELSON USOU AS MOEDAS ABAIXO PARA COMPRAR 1 PACOTE DE FIGURINHAS.



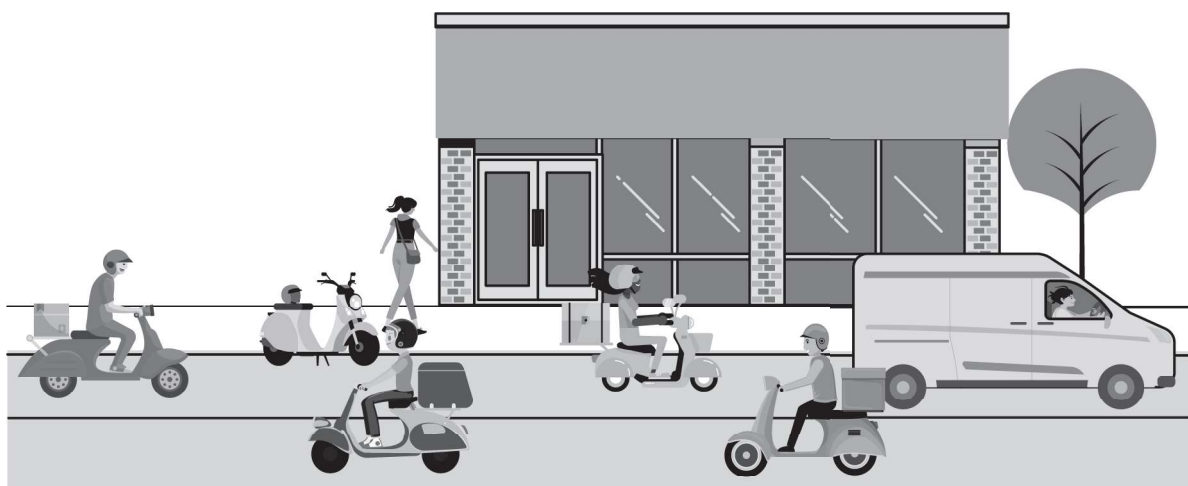
VERA COMPROU UM PACOTE DE FIGURINHAS IGUAL AO QUE NELSON COMPROU, USANDO SOMENTE MOEDAS DE 1 REAL.

QUAL É O CONJUNTO DE MOEDAS DE 1 REAL QUE VERA USOU PARA COMPRAR ESSE PACOTE DE FIGURINHAS?



OUÇA E OBSERVE O TEXTO ABAIXO PARA RESPONDER ÀS QUATRO QUESTÕES A SEGUIR.

CAMILO, FELIPE, LORENA, MURILO, ROSANA E TALITA SÃO AMIGOS E TRABALHAM ENTREGANDO MERCADORIAS. OBSERVE ABAIXO ESSES AMIGOS, NA MANHÃ DA SEGUNDA-FEIRA DA SEMANA PASSADA, INICIANDO UM DIA DE TRABALHO.




(M00061611_CEN)

Questão 09

M00061611

OBSERVE ABAIXO AS MERCADORIAS QUE TALITA ENTREGOU NA SEGUNDA-FEIRA DA SEMANA PASSADA.




QUAL É A QUANTIDADE DE MERCADORIAS QUE TALITA ENTREGOU?

 34. 36. 37. 38.

Questão 10

M00061612

OBSERVE ABAIXO A QUANTIDADE DE MERCADORIAS QUE CAMILO, FELIPE, LORENA E MURILO ENTREGARAM NA MANHÃ DE SEGUNDA-FEIRA DA SEMANA PASSADA.



QUAL DESSAS PESSOAS ENTREGOU A MAIOR QUANTIDADE DE MERCADORIAS NA MANHÃ DESSA SEGUNDA-FEIRA?

CAMILO.

FELIPE.


LORENA.

MURILO.

Questão 11

M00061613

OBSERVE ABAIXO AS MERCADORIAS QUE CAMILO, FELIPE, LORENA E MURILO ENTREGARAM DURANTE A TARDE, NA SEGUNDA-FEIRA DA SEMANA PASSADA.



DUAS DESSAS PESSOAS ENTREGARAM A MESMA QUANTIDADE DE MERCADORIAS NESSA TARDE.

QUAL É ESSA QUANTIDADE?

15.

16.

17.

32.

Questão 12

M00061614

ROSANA ENTREGOU 375 MERCADORIAS PESADAS E 12 LEVES NA SEGUNDA-FEIRA DA SEMANA PASSADA.


QUANTAS MERCADORIAS, NO TOTAL, ROSANA ENTREGOU NESSE DIA?

 363. 375. 387. 495.

Questão 13

M00059168

OBSERVE AS FLORES NO QUADRO ABAIXO.




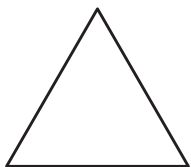
QUANTAS FLORES HÁ NESSE QUADRO?

 30. 35. 40. 45.




Questão 14

M00059193

OBSERVE AS FIGURAS ABAIXO.



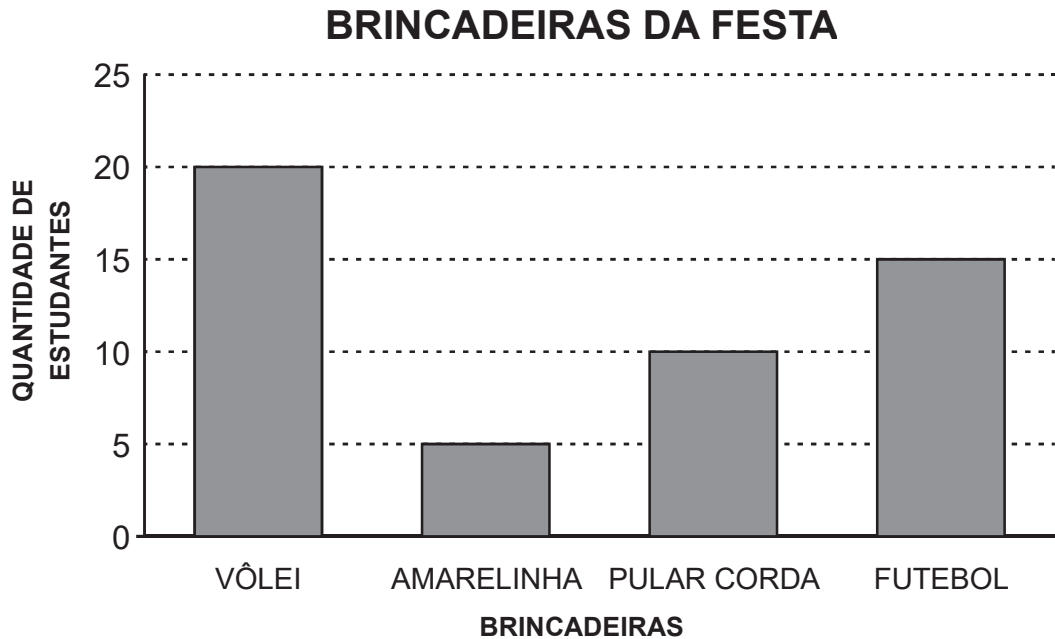
QUAL DESSAS FIGURAS É UM RETÂNGULO?



Questão 15

M00059199

ALGUNS ESTUDANTES PARTICIPARAM DE BRINCADEIRAS EM UMA FESTA DA ESCOLA. OBSERVE ABAIXO O GRÁFICO QUE APRESENTA ESSAS BRINCADEIRAS.



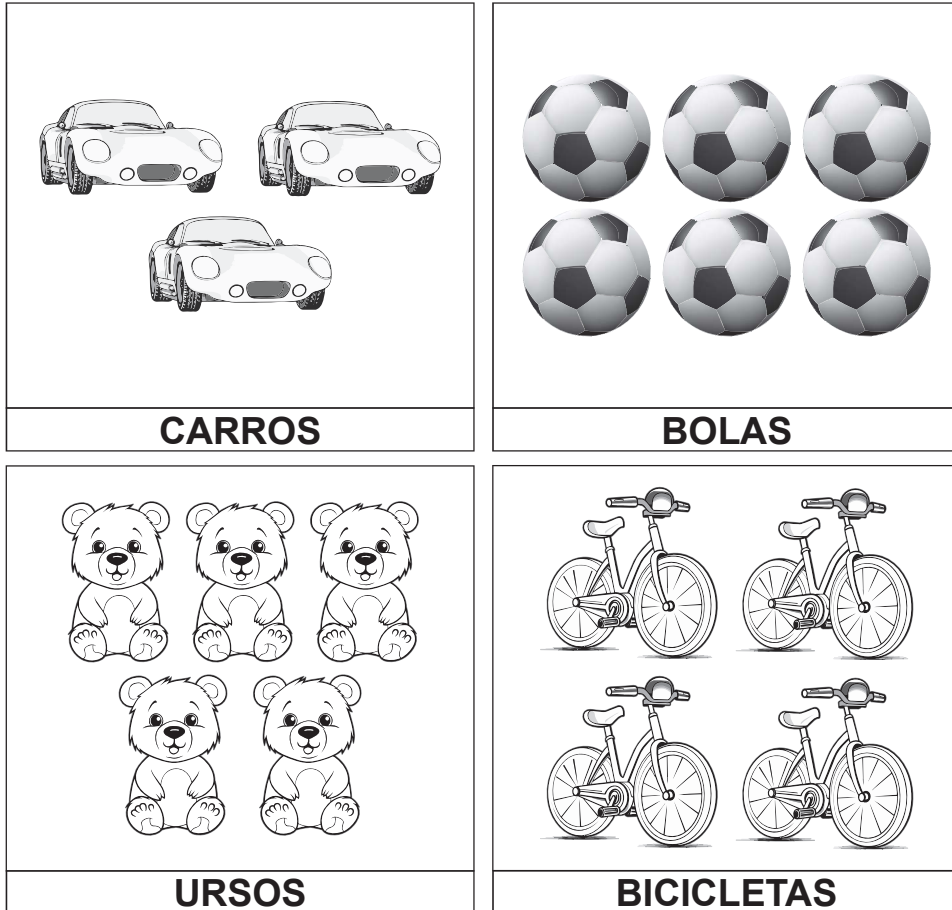
DE ACORDO COM ESSE GRÁFICO, QUAL FOI A BRINCADEIRA COM O MENOR NÚMERO DE ESTUDANTES?

- AMARELINHA.
- FUTEBOL.
- VÔLEI.
- PULAR CORDA.

Questão 16

M00059169

MARINA COMPROU 4 CARTELAS COM ADESIVOS. OBSERVE OS DESENHOS DESSAS CARTELAS ABAIXO.



A CARTELA QUE TEM MAIS ADESIVOS É AQUELA QUE POSSUI DESENHOS DE

BICICLETAS.

BOLAS.

CARROS.

URSOS.

Questão 17

RESOLVA A OPERAÇÃO ABAIXO.

$$\begin{array}{r} 354 \\ + 230 \\ \hline \end{array}$$

QUAL É O RESULTADO DESSA OPERAÇÃO?

124

574

580

584

Questão 18

M00059174

OBSERVE OS NÚMEROS NO QUADRO ABAIXO.

56 – 79 – 82 – 78

QUAL É O MAIOR NÚMERO APRESENTADO NESSE QUADRO?

56.

79.

82.

78.

Questão 19

M00059182

ANA TINHA UMA CAIXA DE LÁPIS DE COR COM 25 LÁPIS. NO SEU ANIVERSÁRIO, ELA GANHOU OUTRA CAIXA DE LÁPIS DE COR COM 12 LÁPIS.

COM QUANTOS LÁPIS DE COR ANA FICOU DEPOIS DO SEU ANIVERSÁRIO?

 13. 25. 27. 37.

Questão 20

M00059189

OBSERVE ABAIXO A IMAGEM DE UM COPO.



A FORMA DESSE COPO LEMBRA QUAL FIGURA GEOMÉTRICA?

- CONE.
- CUBO.
- ESFERA.
- CILINDRO.

Questão 21

M00059184

JOÃO TINHA 44 CARRINHOS E DEU 20 CARRINHOS PARA SEU PRIMO.
COM QUANTOS CARRINHOS JOÃO FICOU?

 20. 24. 42. 64.

Questão 22

M00038161

OBSERVE ABAIXO HUGO E SEUS AMIGOS BRINCANDO NO PARQUE.



QUEM ESTÁ À ESQUERDA DE HUGO?

MIGUEL.

LUIZ.

JÚLIA.

JOÃO.