

2024



1891M0101

AVALIAÇÃO CONTÍNUA DA APRENDIZAGEM CICLO II

MATEMÁTICA

1º ano do Ensino Fundamental

CADERNO
M0101

Nome do(a) estudante

Data de Nascimento
do(a) estudante

--	--	--	--	--	--	--	--

01	A	B	C	D	07	A	B	C	D	13	A	B	C	D	19	A	B	C	D
02	A	B	C	D	08	A	B	C	D	14	A	B	C	D	20	A	B	C	D
03	A	B	C	D	09	A	B	C	D	15	A	B	C	D	21	A	B	C	D
04	A	B	C	D	10	A	B	C	D	16	A	B	C	D	22	A	B	C	D
05	A	B	C	D	11	A	B	C	D	17	A	B	C	D					
06	A	B	C	D	12	A	B	C	D	18	A	B	C	D					

4454197329

EXEMPLO

Vamos fazer juntos um exemplo de uma atividade.

OBSERVE ABAIXO A CONTA QUE A PROFESSORA ANA ESCREVEU NO QUADRO.

$$15 + 4$$

QUAL É O RESULTADO DESSA CONTA?

11

18

19

55

OUÇA E OBSERVE O TEXTO ABAIXO PARA RESPONDER ÀS QUATRO QUESTÕES A SEGUIR.

CAIO, ELIAS, ISIS E JADE FORAM AO PARQUE DE DIVERSÕES NO SÁBADO E NO DOMINGO.

OBSERVE ABAIXO ESSAS CRIANÇAS, ENQUANTO COMPRAM SEUS INGRESSOS PARA SE DIVERTIREM NOS BRINQUEDOS DESSE PARQUE.




(M00061176_CEN)





Questão 01

M00061176

OBSERVE ABAIXO A QUANTIDADE DE INGRESSOS QUE CADA UMA DESSAS CRIANÇAS COMPROU PARA ESSES DOIS DIAS DE DIVERSÃO.



QUAL DESSAS CRIANÇAS COMPROU A MENOR QUANTIDADE DE INGRESSOS?



Questão 02

M00061178

OBSERVE ABAIXO OS BRINQUEDOS DA BARRACA “DERRUBE E GANHE”, ORGANIZADOS EM UMA SEQUÊNCIA QUE SEGUE UM PADRÃO.



NO ESPAÇO VAZIO ESTAVA O BRINQUEDO QUE CAIO DERRUBOU COM UMA BOLA EM SUA JOGADA.

DE ACORDO COM ESSA SEQUÊNCIA, QUAL FOI O BRINQUEDO QUE CAIO DERRUBOU?





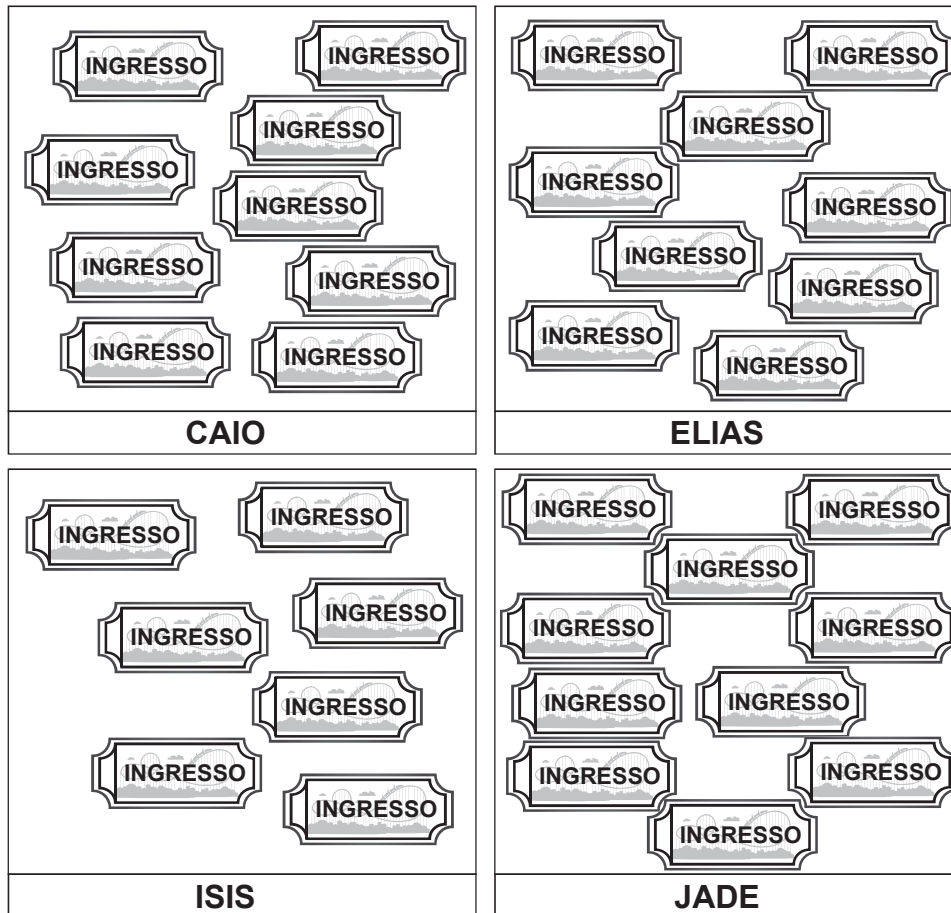




Questão 03

M00061179

OBSERVE ABAIXO AS QUANTIDADES DE INGRESSOS QUE CAIO, ELIAS, ISIS E JADE GUARDARAM PARA USAR NESSE PARQUE NO DOMINGO.



QUAIS DESSAS CRIANÇAS GUARDARAM A MESMA QUANTIDADE DE INGRESSOS PARA USAR NO DOMINGO?

- CAIO E ELIAS.
- CAIO E ISIS.
- ELIAS E JADE.
- ISIS E JADE.

Questão 04

M00061180

OBSERVE, NA TABELA ABAIXO, A QUANTIDADE DE INGRESSOS VENDIDA PARA ALGUNS BRINQUEDOS DESSE PARQUE NO SÁBADO.

INGRESSOS VENDIDOS

BRINQUEDO	QUANTIDADE DE INGRESSOS
CARROSSEL	45
DERRUBE E GANHE	37
PULA-PULA	32
RODA-GIGANTE	43

DE ACORDO COM ESSA TABELA, QUANTOS INGRESSOS PARA O CARROSSEL FORAM VENDIDOS NESSE SÁBADO?

 32. 37. 43. 45.

OUÇA E OBSERVE O TEXTO ABAIXO PARA RESPONDER ÀS QUATRO QUESTÕES A SEGUIR.

OBSERVE ABAIXO A PROFESSORA BRENDA EM SALA DE AULA COM OS SEUS ESTUDANTES.




(M00061186_CEN)

Questão 05

M00061186

OBSERVE ABAIXO PAULO E ALGUNS ESTUDANTES SENTADOS NAS CARTEIRAS DA SALA DE AULA.



QUEM ESTÁ SENTADO À DIREITA DE PAULO?

BRUNO.

JOANA.


LARA.

LUCAS.


Questão 06

M00061188

OBSERVE ABAIXO AS FIGURAS GEOMÉTRICAS QUE A PROFESSORA BRENDA DESENHOU NO QUADRO.



QUAL DESSAS FIGURAS GEOMÉTRICAS CORRESPONDE AO CÍRCULO?



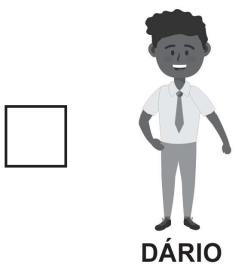



Questão 07

M00061187

OBSERVE ABAIXO OS AJUDANTES DA SEMANA DA PROFESSORA BRENDA.



QUAL DESSAS CRIANÇAS É A MAIS ALTA?



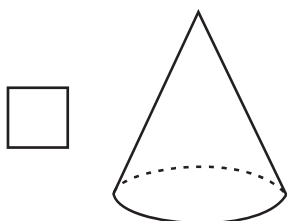
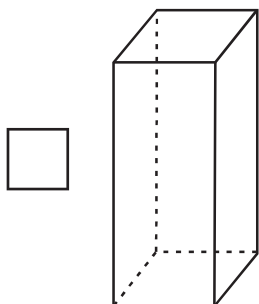
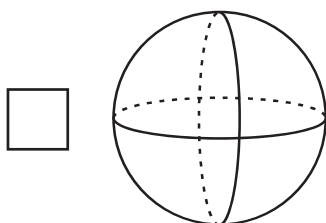
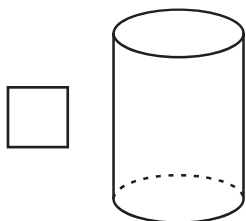
Questão 08

M00061190

OBSERVE ABAIXO O OBJETO QUE ESTÁ NA SALA DE AULA DA PROFESSORA BRENDA.



A FORMA DESSE OBJETO LEMBRA QUAL FIGURA GEOMÉTRICA?



OUÇA E OBSERVE O TEXTO ABAIXO PARA RESPONDER ÀS QUATRO QUESTÕES A SEGUIR.

OBSERVE ABAIXO CARLOS BRINCANDO EM SEU QUARTO COM SEU CACHORRO TOBE.



(M00061181_CEN)


Questão 09

M00061181

OBSERVE, NA FIGURA ABAIXO, ALGUNS OBJETOS QUE ESTÃO NO QUARTO DE CARLOS.



NESSE QUARTO, QUAL É O OBJETO QUE ESTÁ POSICIONADO EM CIMA DA MESA?



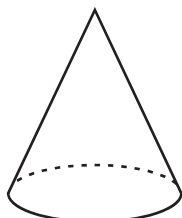
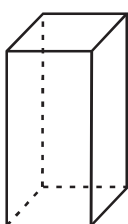
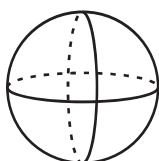
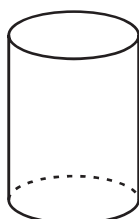
Questão 10

M00061183

OBSERVE ABAIXO A LUMINÁRIA DO QUARTO DE CARLOS.



ESSA LUMINÁRIA LEMBRA QUAL FIGURA GEOMÉTRICA?



Questão 11

M00061182

OBSERVE ABAIXO OS CARRINHOS QUE CARLOS ORGANIZOU NA PRATELEIRA DE SEU QUARTO.




QUAL É A QUANTIDADE TOTAL DE CARRINHOS QUE CARLOS ORGANIZOU NESSA PRATELEIRA?

 17. 18. 19. 81.

Questão 12

M00061185

OBSERVE ABAIXO OS DESENHOS NA COLCHA DA CAMA DE CARLOS.




OS DESENHOS NESSA COLCHA LEMBRAM QUAL FIGURA GEOMÉTRICA?

- TRIÂNGULO.
- RETÂNGULO.
- QUADRADO.
- CÍRCULO.

Questão 13

M00059114

OBSERVE ABAIXO OS DESENHOS DAS DOBRADURAS QUE CADA AMIGO FEZ NA ESCOLA.



QUAL DESSES AMIGOS FEZ A MAIOR QUANTIDADE DE DOBRADURAS NA ESCOLA?

- CÁTIA.
- GABRIEL.
- PEDRO.
- VITÓRIA.

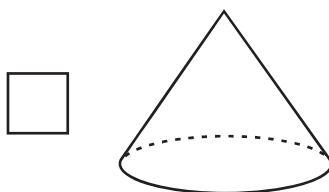
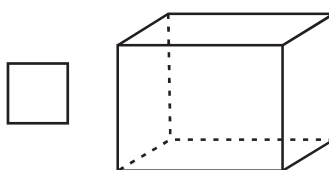
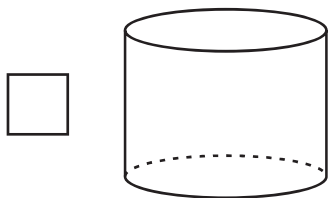
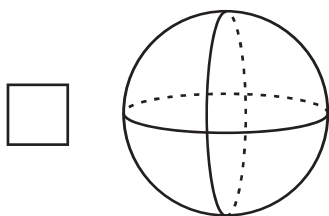
Questão 14

M00059136

OBSERVE ABAIXO A IMAGEM DE UM PORTA-JOIAS.



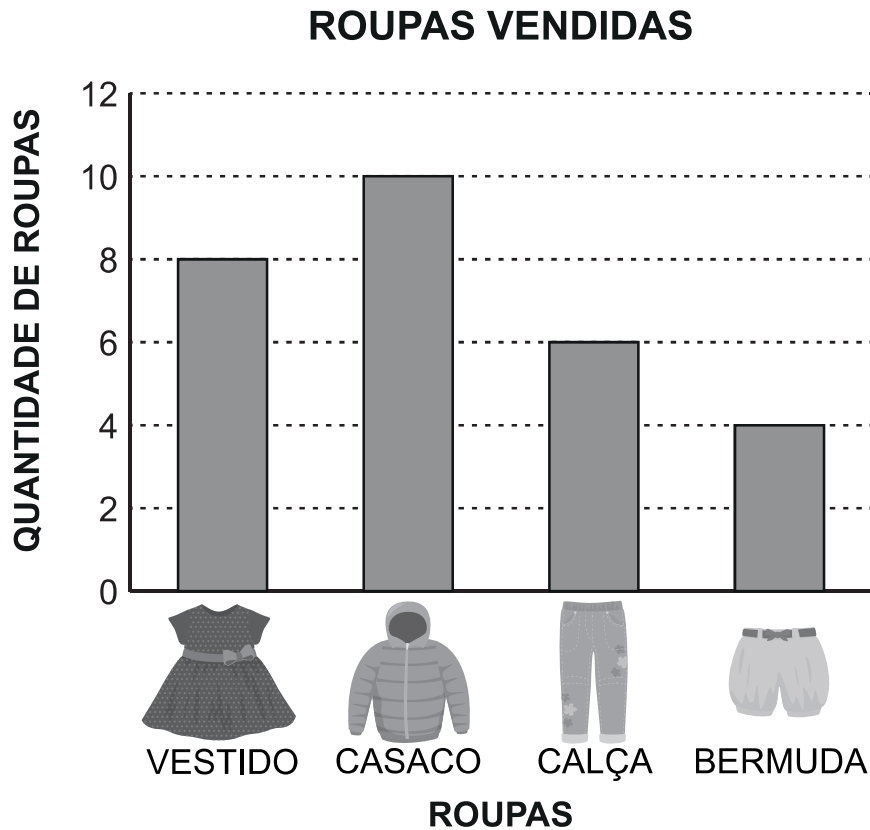
A FORMA DESSE PORTA-JOIAS LEMBRA QUAL FIGURA GEOMÉTRICA?



Questão 15

M00059144

FERNANDA VENDE ROUPAS DE CRIANÇA. OBSERVE, NO GRÁFICO ABAIXO, A QUANTIDADE DE ROUPAS QUE ELA VENDEU EM UM DIA.



DE ACORDO COM ESSE GRÁFICO, QUAL FOI A ROUPA QUE FERNANDA MENOS VENDEU?




Questão 16

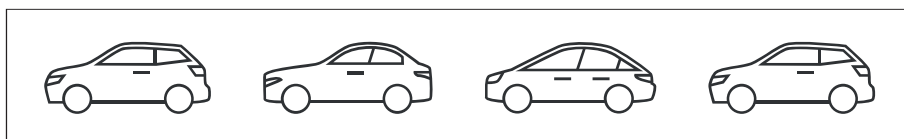
M00059124

OBSERVE ABAIXO OS CONJUNTOS DE CARRINHOS.


1



2



3



4



EM QUAL CONJUNTO TODOS OS CARRINHOS SÃO DA MESMA COR?

1.

2.


3.

4.

Questão 17

M00059113

OBSERVE ABAIXO A CAIXA COM OVOS QUE FABIANA COMPROU NO MERCADO.



QUANTOS OVOS FABIANA COMPROU NO TOTAL?

1.

6.

12.





15.

Questão 18

M00059143

LAÍS COLHEU ALGUMAS FRUTAS NO QUINTAL DE SUA CASA PARA FAZER UMA SALADA DE FRUTAS. OBSERVE ABAIXO A QUANTIDADE DE FRUTAS QUE LAÍS COLHEU.

FRUTAS DO QUINTAL

FRUTAS	QUANTIDADE
 PÊSSEGO	4
 MORANGO	9
 BANANA	3
 MANGA	6

DE ACORDO COM ESSA TABELA, QUAL FOI A QUANTIDADE DE MORANGOS QUE LAÍS COLHEU?

 9.

 6.

 4.

 3.

Questão 19

M00059123

CERTO DIA, OS ALUNOS DE UMA ESCOLA PLANTARAM ALGUMAS ÁRVORES NO JARDIM DA ESCOLA. OBSERVE ABAIXO AS ÁRVORES QUE ESSES ALUNOS PLANTARAM.



NO DIA SEGUINTE, OS ALUNOS PLANTARAM OUTRAS 8 ÁRVORES NESSE JARDIM.

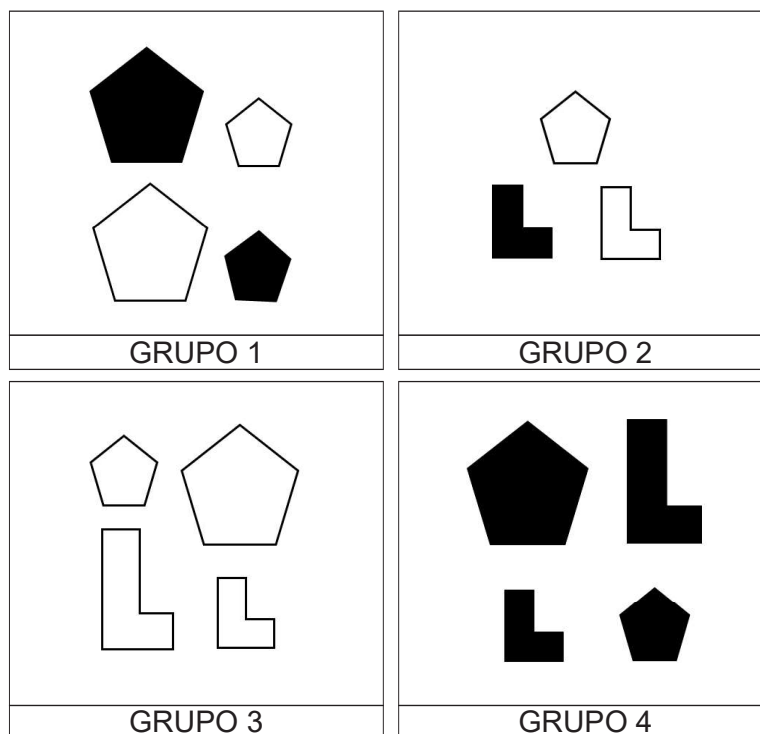
QUANTAS ÁRVORES OS ALUNOS DESSA ESCOLA PLANTARAM NO TOTAL?

 2. 9. 10. 18.

Questão 20

M00059125

LAURA SEPAROU ALGUMAS PEÇAS DE UM JOGO EM 4 GRUPOS. OBSERVE ABAIXO ESSES GRUPOS.




EM QUAL GRUPO AS PEÇAS FORAM SEPARADAS DE ACORDO COM SUA FORMA?

- GRUPO 1.
- GRUPO 2.
- GRUPO 3.
- GRUPO 4.


Questão 21

M00059128

OBSERVE A SEQUÊNCIA DE MOVIMENTOS DE GINÁSTICA QUE HELENA FEZ. ELA SEGUE UM PADRÃO.



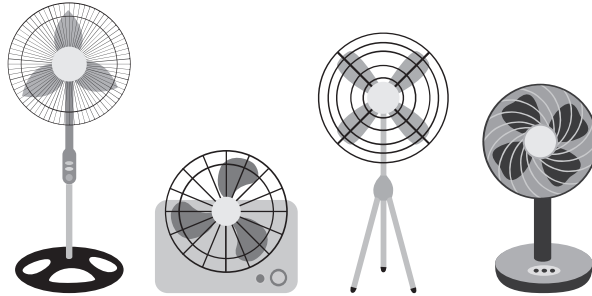
DE ACORDO COM ESSA SEQUÊNCIA, QUAL É A IMAGEM QUE COMPLETA O ESPAÇO VAZIO?



Questão 22

M00059140

OBSERVE ABAIXO OS VENTILADORES DE UMA BIBLIOTECA.



QUAL DESSES VENTILADORES É O MAIS ALTO?

