

ESCOLA: _____

DATA: _____

ALUNO (A): _____

PROFESSOR (A): _____

Leia o texto com atenção:

O senhor Fortes

O senhor Fortes vivia numa grande cidade, com muitas casas, muitas ruas, muitas fábricas, muitos automóveis, muita gritaria, muito ruído, muita agitação, muito fumo, muito fumo, muito fumo.

E as pessoas que moravam na cidade corriam, corriam e nem reparavam que aquele homem alto, forte, com alguma idade e poucos cabelos na cabeça tinha uma mala castanha poisada no passeio.

Nem reparavam que dentro da mala estavam muitas coisas finas, delicadas.

Nem ouviam o que ele dizia.

E ele dizia: - Comprem, senhoras e senhores, meninos e meninas! O Fortes só vende coisas finas!

Às vezes lá vendia alguma coisa. Tinha sorte quando algum menino vinha agarrado à mão da mãe. Quase sempre, quando via aqueles bonecos de barro dizia:

- Mamã, mamã, dá-me aquele boneco!

Antonio Mota, as andanças do senhor fortes, 9ª ed., Galilviro, 2009.

Vocabulário:

Poisada: que foi colocada um determinado lugar, assentada, que está parada, repousada.

Responda as seguintes questões:

1 – Onde vivia e trabalhava o senhor Fortes?

2 – Copie o parágrafo que descreve como era a cidade onde vivia o senhor Fortes.

3 – Como era o senhor Fortes? Marque com um X as características referidas no texto.

alto simpático forte novo alguma idade careca

4 – Qual era a profissão do senhor Fortes? Marque com um X a resposta correta.

padeiro taxista vendedor ambulante carteiro

5 – As pessoas corriam e nem reparavam no senhor Fortes. Por quê seria?

6 – A mala do senhor Fortes tinha coisa finas e delicadas. Imagine essas coisas e escreva o nome delas.

7 – Copie a frase que o senhor Fortes dizia às pessoas que passavam junto dele.

8 – Você acha que o senhor Fortes vendia muito ou pouco? Justifique a sua resposta.

9 – Coloque as palavras abaixo em ordem alfabética.

fumo	cidade	agarrado	mala	homem	castanha	delicadas

10 – Separe em sílabas as seguintes palavras.

cidade automóveis nem alto

mãe cabelos homem agitação

11 – Complete o quadro com as palavras anteriores, seguindo o exemplo.

monossílabas	dissílabas	trissílabas	polissílabas
nem			

12 – Acentue corretamente as palavras.

negocio coração ruído fabricas automoveis transito

13 – Circule em cada palavra a sílaba tônica.

polícia – elétricos – mão – mamãe – família – bonecos – cordões – fábrica

14- Classifique as palavras anteriores quanto à posição da sílaba tônica, escrevendo-as na tabela.

Oxítonas	Paroxítonas	Proparoxítonas

15 – Escreva a frase abaixo no plural.

“Aquele homem alto, forte, tinha uma mala castanha”.

16 – Escreva a frase abaixo no feminino.

“O homem pediu para os senhores comprarem bonecos para os meninos”.

17-Observe a imagem abaixo e continue a história, de acordo com o início de cada parte do texto. Não esqueça do título.



Numa manhã de sol os amigos _____

De repente avistaram _____

E por fim os amigos _____

ESCOLA: _____

DATA: _____

ALUNO (A): _____

PROFESSOR (A): _____

1 – Observe os números que estão em cada ficha.

519

450

92

1.009

7.123

186

6.029

74

606

8.489

14

717

40

2.021

61

4.415

9.989

813

234

5.632

- a) Pinte de azul quatro fichas que contem números pares;
- b) Pinte de vermelho o antecessor do número 6.030;
- c) Escreva por extenso o maior número que tem nas fichas;
- _____
- d) Coloque em ordem crescente os números que estão na terceira linha;
- _____

2 - Resolva as situações – problema:

a) Raquel ganhou do seu padrinho R\$ 100,00 como presente de aniversário. Ela foi ao mercado e gastou R\$ 35,00 comprando biscoitos e chocolates. Quanto dinheiro Raquel ainda possui para gastar?

(A) R\$ 35,00

(B) R\$ 55,00

(C) R\$ 65,00

(D) R\$ 75,00

Resposta:

b) Marcela quer comprar um celular que custa R\$ 970,00, ela já tem R\$ 580,00.
Quanto ela ainda precisa para comprar o celular

(A) R\$ 475,00

(B) R\$ 360,00

(C) R\$ 375,00

(D) R\$ 390,00

Resposta:

c) Um comerciante abasteceu seu mercadinho com 620 Kg de arroz, 580 Kg de feijão e 95 Kg de açúcar. Quantos quilos de produtos o comerciante comprou para o seu mercadinho?

(A) 1.395 Kg

(B) 1.295 Kg

(C) 1.315 Kg

(D) 1.285 Kg

Resposta:

3 - Calcule o resultado das operações a seguir.

a) $150 + 235 =$

C	D	U

b) $437 + 108 =$

C	D	U

c) $631 + 57 =$

C	D	U

d) $816 + 68 =$

C	D	U

e) $384 - 123 =$

C	D	U

f) $567 - 11 =$

C	D	U

g) $312 - 57 =$

C	D	U

h) $836 - 459 =$

C	D	U

4 – O resultado da operação $437 + 385$ é:

- (A) 812
- (B) 822
- (C) 832
- (D) 722

5 – O resultado da operação $670 - 23$ é:

- (A) 653
- (B) 647
- (C) 693
- (D) 703

6 – O resultado da divisão $574 : 2$ é:

7 – O resultado da divisão $928 : 4$ é:

8 – Resolva as divisões e depois marque X na alternativa que indica a resposta correta:

9 5 1 : 3 = (A) 327 (B) 317 (C) 306 (D) 377	3 0 5 : 5= (A) 60 (B) 70 (C) 61 (D) 52
7 0 8 : 2 = (A) 364 (B) 265 (C) 344 (D) 354	6 4 4 : 4 = (A) 161 (B) 141 (C) 261 (D) 182

9 –Observe as continhas que alguns alunos resolveram:

Renan	Flávia	Gustavo	Tatiane
$\begin{array}{r} 345 \\ \times 3 \\ \hline 1.035 \end{array}$	$\begin{array}{r} 67 \\ \times 4 \\ \hline 258 \end{array}$	$\begin{array}{r} 409 \\ \times 3 \\ \hline 828 \end{array}$	$\begin{array}{r} 136 \\ \times 3 \\ \hline 408 \end{array}$

Quais foram os alunos que resolveram as operações de multiplicação corretamente? Assinale a alternativa correta.

- (A) Renan e Gustavo
- (B) Flávia e Tatiane
- (C) Renan e Tatiane
- (D) Gustavo e Flávia

10 – Calcule o resultado das operações:

a) $83 \times 3 =$	b) $107 \times 4 =$	c) $413 \times 2 =$	d) 79×5

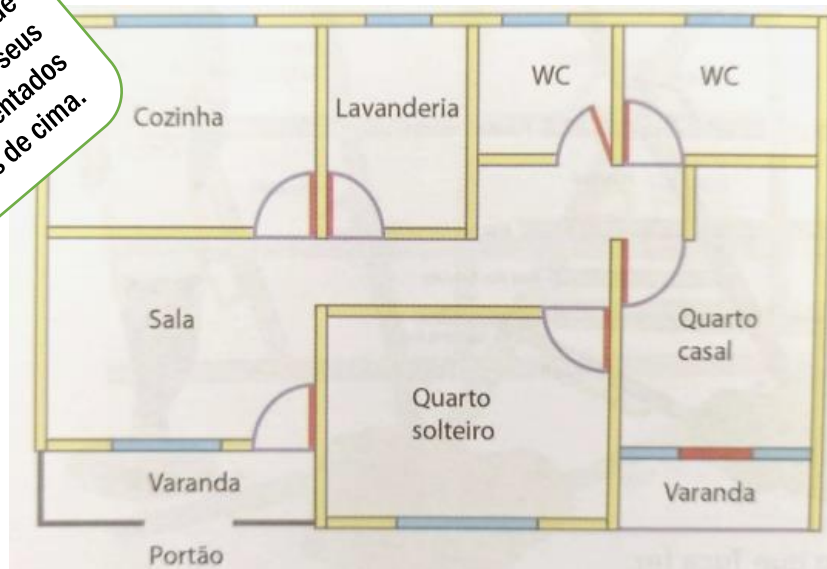
11 – Assinale com um X a resposta correta:

- a) Mariana vai passar dois anos e meio em Portugal. Ele ganhou uma bolsa de estudos do Governo do Estado do Paraná. A quantidade de meses que ela ficará fora é de:
- (A) 8 meses
 - (B) 9 meses
 - (C) 24 meses
 - (D) 30 meses

12- Sérgio está comprando uma casa, ainda em construção.

Veja a planta da casa:

A planta da casa é um desenho esquemático em que vários cômodos seus são representados como vistos de cima.



Complete com as palavras:

direita

esquerda


entre

- (A) Se Sérgio estiver no portão, olhando para a casa, ele observa que o quarto de solteiro fica à sua _____.
- (B) O quarto de solteiro fica à ____ do quarto de casal.
- (C) A lavanderia fica _____ um WC e a cozinha.
- (D) A sala fica à _____ dos quartos.


13 - Observe a imagem e responda.

Onde está o gato?

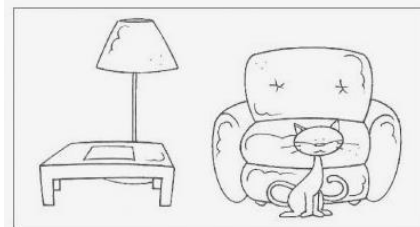
Marque um (X) na alternativa que apresenta a resposta correta.



- (A) EM CIMA DO SOFÁ.
- (B) ENTRE A MESINHA E O SOFÁ.
- (C) EM CIMA DA MESINHA.
- (D) ATRÁS DA MESINHA



- (A) EM CIMA DO SOFÁ.
- (B) ENFRENTE DO SOFÁ.
- (C) EMBAIXO DO SOFÁ
- (D) ATRÁS DO SOFÁ



- (A) EMBAIXO DO SOFÁ.
- (B) AO LADO DO SOFÁ.
- (C) À FRENTE DO SOFÁ
- (D) EM CIMA DO SOFÁ

14 – A tabela a seguir mostra a quantidade de entradas vendidas no último final de semana em um parque e diversões.

VENDA DE INGRESSOS		
TIPO DE INGRESSO	SÁBADO	DOMINGO'
Meia entrada	234	191
Inteira	97	78

a) Qual o total de ingressos vendidos no sábado?

b) Qual o total de ingressos vendidos no final de semana?

c) No domingo, foram vendidas quantas meias entradas a mais do que inteiras?

d) Em qual dos dois dias foram vendidos mais ingressos? Quantos a mais?

BOA PROVA!!!!

